

JUNTA DE ANDALUCÍA

CONSEJERÍA DE EDUCACIÓN
Dirección General de Formación Profesional
y Educación Permanente

PRUEBA ACCESO A CICLOS FORMATIVOS DE GRADO SUPERIOR	Septiembre 2011 OPCIÓN A: GEOGRAFÍA
--	--

DATOS DEL ASPIRANTE		CALIFICACIÓN PRUEBA
Apellidos:		Nombre:
D.N.I. o Pasaporte:	Fecha de nacimiento:	/ /

Instrucciones:

- **Lee atentamente las preguntas antes de contestar.**
- **La puntuación máxima de cada pregunta está indicada en cada enunciado.**
- **Revisa cuidadosamente la prueba antes de entregarla.**

1. Observa este mapa físico de la península ibérica y contesta a las siguientes preguntas (2 puntos)



Fuente: Elaboración propia

A. Escribe el nombre de la unidad de relieve correspondiente a cada uno de los números que aparecen en el mapa (1 punto).

B. En la siguiente tabla **incluye el nombre** de las unidades de relieve anteriores en el lugar correspondiente (0'5 puntos):

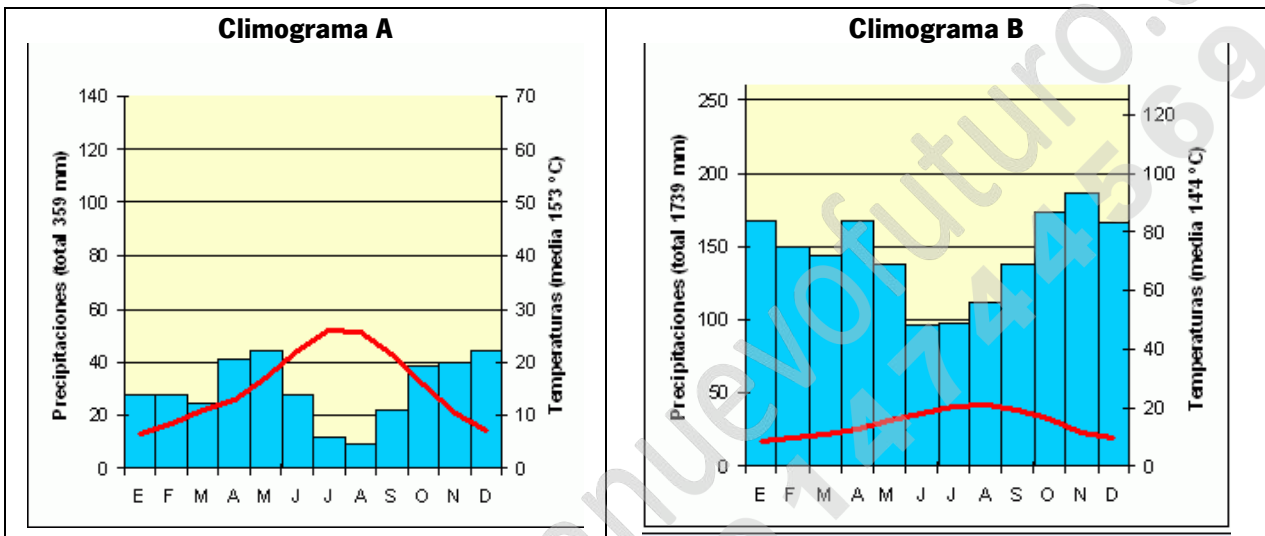
Unidades exteriores a la Meseta	Unidades interiores a la Meseta	Unidades periféricas o rebordes de la Meseta

JUNTA DE ANDALUCÍA

CONSEJERÍA DE EDUCACIÓN
Dirección General de Formación Profesional
y Educación Permanente

C. ¿Qué río importante se encuentra entre las unidades morfoestructurales 2 y 4? (0'5 puntos).

2. **Analiza** los climogramas y responde a las siguientes cuestiones: (2 puntos)



A. **Explica** si existe o no aridez en estos climogramas y justifica tu respuesta (0'5 puntos):

- Climograma A:
- Climograma B:

B. **Halla** la amplitud térmica aproximada (0'5 puntos):

- Climograma A:
- Climograma B:

C. En cada caso, **identifica** el tipo de clima y las características que lo definen (1 punto):

Climograma A

Tipo de clima:

Tres características:.....

Climograma B:

Tipo de clima:

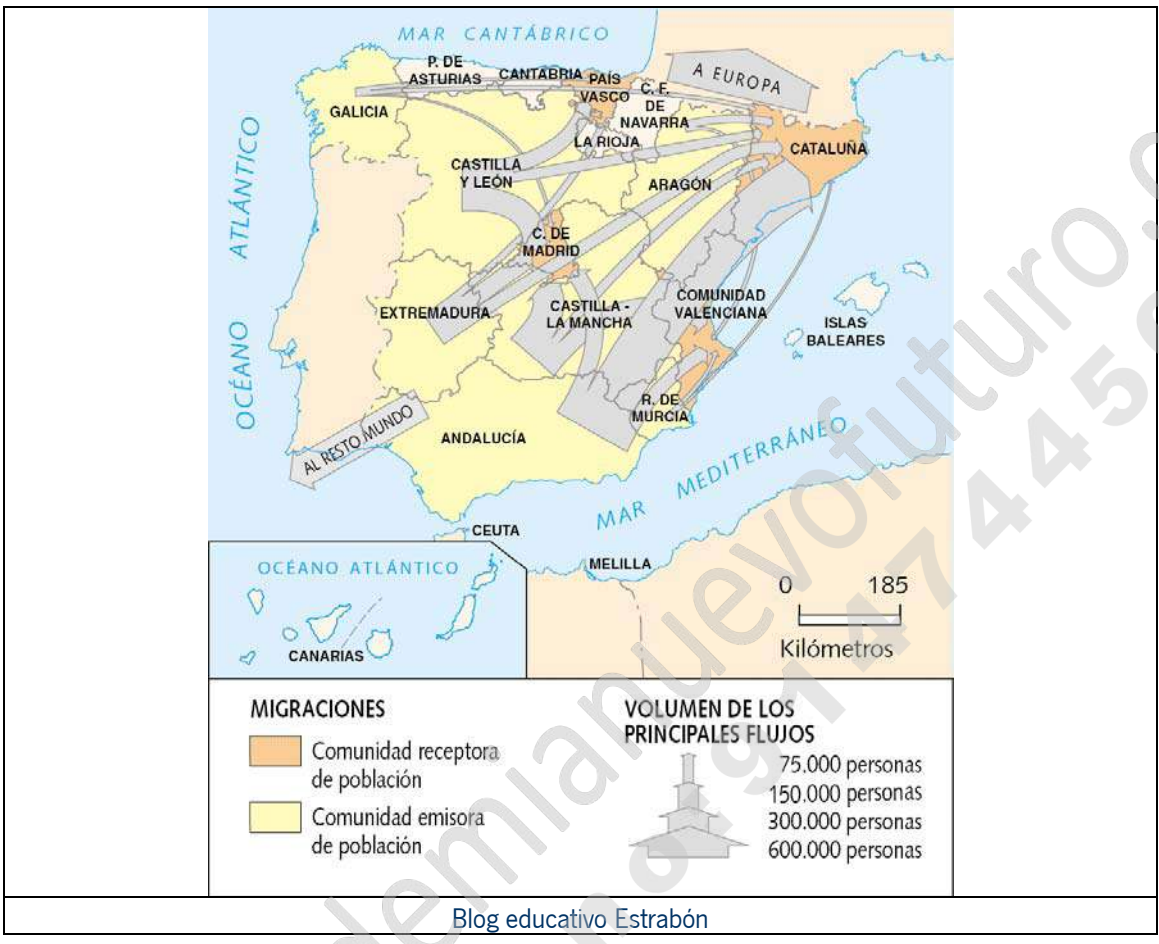
Tres características:.....



JUNTA DE ANDALUCÍA

CONSEJERÍA DE EDUCACIÓN
Dirección General de Formación Profesional
y Educación Permanente

3. Observa el mapa de España que representa los flujos de migraciones interiores y responde a las siguientes cuestiones: (2 puntos)



A. Expón las razones por las que se produjeron estas migraciones. (1 punto)

B. ¿Qué consecuencias tuvieron estas migraciones en la distribución de la población española actual? (0,5 puntos)

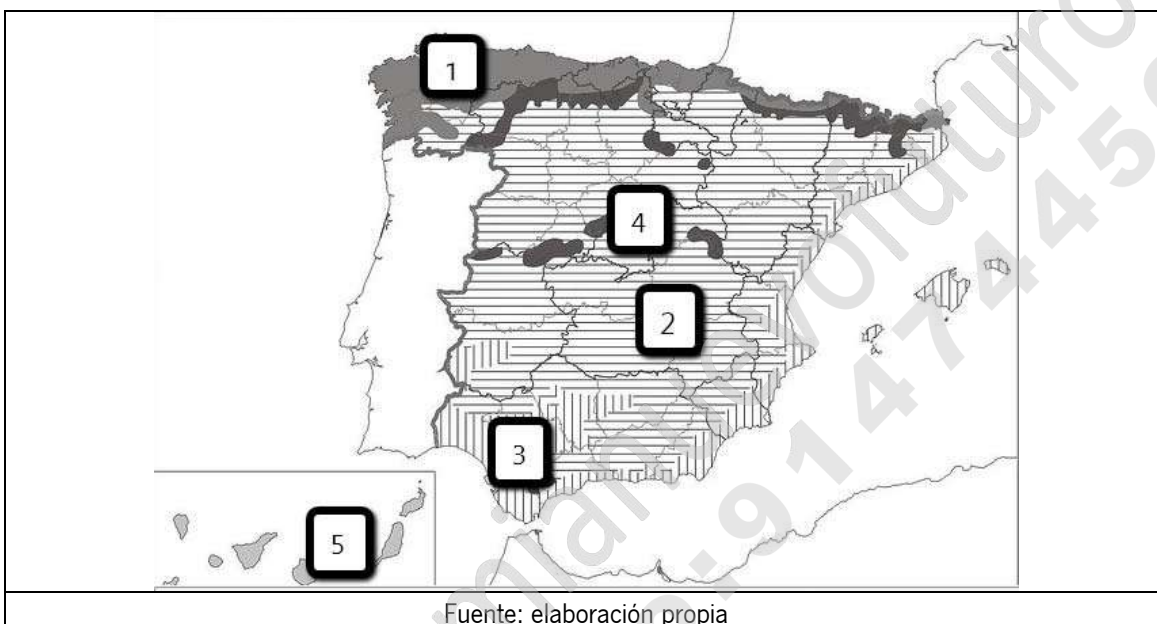


JUNTA DE ANDALUCÍA

CONSEJERÍA DE EDUCACIÓN
Dirección General de Formación Profesional
y Educación Permanente

C. ¿Qué comunidad autónoma emitió mayor número de emigrantes? **Expón** alguna razón que explique este hecho (0,5 puntos)

4. Observa el mapa de España en el que se representan los diferentes paisajes agrarios de España y contesta a las siguientes cuestiones: (2 puntos)



A. Relaciona los números con el nombre del paisaje agrario que corresponde (1 punto)

- 1.....
- 2.....
- 3.....
- 4.....
- 5.....

B. Indica la actividad predominante en el paisaje agrario número 1 y expón alguna de las causas que lo explican. (0,5 puntos)



JUNTA DE ANDALUCÍA

CONSEJERÍA DE EDUCACIÓN
Dirección General de Formación Profesional
y Educación Permanente

C. Indica la actividad predominante en el paisaje agrario número 3 y expón alguna de las causas que lo explican. (0,5 puntos)

5. Escribe el nombre del concepto al que hace referencia cada definición: (2 puntos)

A. Tipo de industrias que elaboran productos destinados preferentemente a otras industrias:

B. Extensión de tierra que se encuentra a un nivel más bajo que las zonas que la rodean. Normalmente, por su interior circula un río:

C. Zona más vieja de la ciudad, construida antes de la época industrial. En la mayoría de los casos, esta zona suele tener un plano irregular:

D. Es la institución que representa directamente a los ciudadanos de la Unión Europea. Tiene su sede oficial en Estrasburgo:



JUNTA DE ANDALUCÍA

CONSEJERÍA DE EDUCACIÓN
Dirección General de Formación Profesional
y Educación Permanente

- E.** Tipo de bosque integrado mayoritariamente por árboles frondosos, de hoja caduca, de gran talla, que se desprenden de sus hojas en otoño y que exigen una gran cantidad de agua:
- F.** Tratado firmado en 1992 por el que se crea la Unión Europea. Además, en este tratado se adoptaron importantes acuerdos como la Política Exterior y de Seguridad Común (PESC) y se anunció la creación del euro:
- G.** Es el valor de la producción de bienes y servicios de un país en un determinado periodo:
- H.** Es la tasa que se refiere a la relación que existe entre el número de nacimientos ocurridos en un cierto periodo y la cantidad de población femenina en edad fértil en el mismo periodo:

